

2020—2021 学年度七年级上学期期中测试

道德与法治试卷

(满分 60 分, 考试时间 60 分钟)

命题人: 赵兴 审核人: 黄莉

一、单项选择题(请将正确答案的字母填入答题卡的表格中。每小题 2 分, 共 30 分)

1. 世界著名科学家, 中国载人航天奠基人, 中国“科制之父”和“火箭之王”钱学森说:“6 年的师大附中学习生活对我的教育很深, 对我的一生, 对我的知识和人生观起了很大作用”。这表明 ()
 - A. 成长中的每个阶段都有独特的价值和意义
 - B. 中学阶段是人生是否成功的决定性阶段
 - C. 中学时代将为我们的人生奠定坚实的基础
 - D. 中学生活把我们带进一个别样的天地
2. 少年有梦, 不应止于心动, 更在于行动。不懈地追梦、圆梦才能改变生活, 改变自己。_____, 是梦想与现实之间的桥梁。
 - A. 乐观的心态
 - B. 艰苦的努力
 - C. 坚定的信念
 - D. 远大的理想
3. “最后, 我们还是坚信一点, 这世界上只要有梦想, 只要不断努力, 只要不断学习, 不管你长得如何, 只要你有梦想, 只要你有良好的团队坚定地执行, 你就能够走到大洋的彼岸。”下列传统经典与马云语录内容一致的是 ()
 - ①功崇惟志业广惟勤
 - ②早立志, 立大志, 常立志
 - ③学而不思则罔思而不学则殆
 - ④志之所驱无远勿届
 - A. ①②
 - B. ③④
 - C. ②③
 - D. ①④
4. “吾生也有涯, 而知也无涯”体现了 ()
 - A. 人的生命是有限的
 - B. 学习不足以认识世界
 - C. 学习没有终点, 我们终身都需要学习
 - D. 学习表现为接受和掌握
5. 《道德与法治》课上, 小浩展示了京剧艺术; 小军表演了刚刚学会的啦啦操; 小明给大家展示了刚学会的 picaza (Google 的免费图片管理工具) 技术。他们的成果不仅迎来阵阵掌声, 更为自己增添了几分自信。对此认识正确的是 ()
 - A. 学习带给我们的都是快乐
 - B. 学习无处不在, 伴我们成长
 - C. 只有在课堂上学会知识才叫学习
 - D. 收获学习的成果, 可以让我们体验到学习的美好




6. 《礼记》中记载：“独学而无友，则孤陋而寡闻。”下列选项中符合这一观点的是（ ）

- A. 小明上课时积极回答老师提出的问题
- B. 小华总是认真完成老师的作业
- C. 小丽和小青在老师分配学习任务后相互交流
- D. 小英发现同桌数学作业的错误后帮他改正

7. 右图漫画《我从这里腾飞》启示我们要（ ）

- A. 增强合作意识，学会合作学习
- B. 克服考试过度焦虑，轻装上阵
- C. 学会学习，培养良好学习习惯
- D. 努力学习科学文化知识，立志成才



8. 生活中总有人这样想：“他当了科学家，他成了文学家，他获得了奥运金牌，那么我呢？”其实你不是最美丽的，但你可以最可爱；你不是最聪明的，但你可以最勤奋；你不是最强壮的，但你可以最乐……这告诉我们（ ）

- ①要积极接纳自己
- ②要认识到自我形象是最好的
- ③每个人都有自己的优点和缺点
- ④要善于掩饰自己的不足

- A. ①②
- B. ①④
- C. ②③
- D. ①③

9. 有这样一个寓言故事：有一天，孔雀向喜鹊哭诉：“我的声音太难听了。人家夜莺的声音多美妙啊！”喜鹊安慰道：“可是你有美丽的羽毛，这是别的鸟儿都不能比的。”这告诉我们（ ）

- A. 要激发自己的潜能，多认识自己的内在
- B. 他人对自己的评价是客观的，我们要对他人的评价言听计从
- C. 要改正自己的缺点
- D. 不要妄自菲薄，要学会欣赏自己

10. 要全面认识自己，就要善于通过他人了解自己。下列名句能体现这个道理的

- ①士别三日，当刮目相看
- ②吾日三省乎吾身
- ③当局者迷，旁观者清
- ④以人为镜，可以明得失

- A. ①②
- B. ②③
- C. ③④
- D. ①④

11. 在自我推荐优秀学生班会活动中，学习成绩优秀、乐于助人的小樱，谈到自己还有不少缺点，比如性格不够开朗，遇事容易急躁。小樱是_____认识自我的。

- A. 通过生理方面
- B. 通过他人评价
- C. 通过自我观察
- D. 通过集体

12. “投我以木瓜，报之以琼琚”诗经中的名篇《木瓜》告诉我们（ ）
- A. 友谊是一种亲密的关系
 - B. 友谊是平等的、双向的
 - C. 君子之交淡如水
 - D. 志同道合、志趣相投的的友谊才能经得住时间的考验和洗礼
13. 与善人居，如入芝兰之室，久而不闻其香，即与之化矣。与不善人居，如入鲍鱼之肆，久而不闻其臭，亦与之化矣。”这告诉我们（ ）
- A. 要选择友善的人做邻居
 - B. 朋友影响我们，要与正直善良的人交朋友
 - C. 要看到朋友的优势与不足
 - D. 随着年龄的增长，我们的朋友圈不断扩大
14. 在成长的道路上，每个人都难免会有缺点和不足，有时甚至会犯错误。这时，来自好朋友的忠告、劝诫就成了一剂良药。它能使人清醒觉悟，并产生幡然改进的决心和力量。这说明（ ）
- A. 友情能促进个人进步
 - B. 友情能使集体更有力量
 - C. 友情能使人受伤害
 - D. 友情能使人拥有更多的快乐
15. 随着社会的发展，我们获取信息的渠道日益增多，网络因其快捷方便的特点成为我们获取信息的主要途径，对网络的认识，正确的是（ ）
- A. 中学生可以满足自己的好奇心，尽可能多上网
 - B. 中学生有自我保护能力，不会受网上不良信息的影响
 - C. 中学生要提高辨别是非的能力，拒绝上网
 - D. 中学生要提高自控力，加强自我约束、自我管理

二、明辨是非：（判断以下说法是否正确，正确写√，错误写×，总计6分）

(1) 七年级学生小英认为，学习就是学习知识。（ ）

理由：_____

(2) 小英虽然知道朋友偷偷用妈妈的微信钱包购买了 500 元的游戏装备，但他认为友谊需要信任和忠诚，所以为朋友守口如瓶。（ ）

理由：_____

三、情景探究：（本题共两大题，总计24分）

（一）【“会”学习】

学习中总有一些困惑，以下是几名同学的苦恼：



仿照示例, 从小新、小佳中任选一位同学, 找出共问题所在。为其写出“症状诊断书”, 并提出合理化建议, 开出“治疗处方”。(6 分)

“就诊人”及“症状诊断书”	“治疗处方”
小华: 学习方式单一、死板; 缺乏合作意识。	要善于运用同伴互助、自主学习等不同的学习方式。
小新: 觉得学习没有意思, 缺乏对学习的兴趣。	兴趣是最好的老师, 要注意培养对学习的爱好和兴趣。
小佳: 盲目借鉴别人的方法, 别人的学习方法并不适合自己。	要掌握科学的学习方法, 掌握适合自己的学习方法。

(二) 【“会”交友】

七年级学生小福这半个学期的“日记本”上留下了这样的足迹:

9月7日 星期天晴

我是武珞路中学的一名七年级新生, 性格内向, 喜欢独来独往。我认为自己没必要和别人交往, 如果我采取主动, 对方不理我, 这不是很尴尬吗? 我还是去网络上找找朋友吧……

(1) 小福想要交到朋友, 他应该怎么做? (6 分)

(2) 网上交往的特点是什么? (6 分)

(3) 针对小福去网络上找朋友的想法, 请你提些网上交友的建议? (6 分)

道德与法治 参考答案

一、选择题（30分）

1—5 CBD CD; 6—10 CDDDC; 11—15 CBBAD

二、明辨是非（6分）

- (1) ×; 理由: 学习除了学习知识, 还包括能力的培养、如何做人等;
 (2) ×; 理由: 友谊不能没有原则。

三、(24分)

(一) (6分)

“就诊人”及“症状诊断书”	“治疗处方”
小华: 学习方式单一、死板; 缺乏合作意识。	要善于运用同伴互助、自主学习等不同的学习方式。
小新: 觉得学习没有意思, 缺乏对学习的兴趣。	兴趣是最好的老师, 要注意培养对学习的爱好和兴趣。
小佳: 盲目借鉴别人的方法, 别人的学习方法并不有点适合自己。	要掌握科学的学习方法, 掌握适合自己的学习方法。

(两者任选其一)

(二)

(1) (6分)

- ①要开放自己, 打开自己的内心, 多跟同学们交流和沟通;
 ②要持续的行动, 即使对方不理自己, 也不要放弃。真诚待人, 持续行动, 我们总能交到朋友。

(2) (6分)

虚拟、平等、自主等。

(3) (6分)

- ①慎重与网友见面, 不轻易泄露个人隐私给网友;
 ②网络不是法外之地, 网上交友时要注意遵守法律、法规;
 ③网上交友具有虚拟性, 除了网上交友外, 也要学会在现实中与同伴交往。



2020—2021 学年度七年级上学期期中测试

历史试卷

(满分 60 分, 考试时间 60 分钟)


命题人: 朱金梅 审核人: 师琴

考生注意:

1. 本试卷共 4 页, 满分 60 分, 考试用时 60 分钟。
2. 全部答案必须在答题卡上完成, 答在其他位置上无效。
3. 答题前, 请认真阅读答题卡“注意事项”。考试结束后, 请将答题卡上交。

一、选择题 (15 小题, 每小题 2 分, 共 30 分。请选出一个最符合题意的选项)

1. 这里是迄今所知世界上内涵最丰富、材料最齐全的直立人遗址。通过对该遗址的古人类研究, 可以发现早期猿人向现代人类演进和发展变化的规律, 为人类起源的研究提供了可靠的证据。句中的“这里”指的是 ()
 - A. 良渚遗址
 - B. 周口店北京人遗址
 - C. 元谋人遗址
 - D. 周口店山顶洞人遗址
2. 20 世纪 70 年代, 考古工作者在河姆渡遗址出土了大量人工栽培水稻的稻秆、稻壳。部分稻秆出土时竟然还是黄绿色的, 稻壳外形完好。出土稻壳数量之大, 世界罕见。这些考古发现说明 ()
 - A. 长江中下游是亚洲稻的起源地之一
 - B. 远古传说中含有真实的历史信息
 - C. 距今约 7000 年, 在河姆渡可能出现了早期国家形态
 - D. 我国是世界上发现古人类遗址最多的国家之一
3. 张雯同学利用课余时间浏览网站——西安半坡博物馆。在“半坡遗址陈列展览”中, 她可能看到 ()




A (干栏式房屋)



B (猪纹陶钵)



C (人面鱼纹彩陶盆)



D (稻谷)


4. “中华开国五千年，神州轩辕自古传。创造指南车，平定蚩尤乱。世界文明，惟有我先。”诗中的“轩辕”指的是（ ）

- A. 盘古 B. 女娲 C. 黄帝 D. 炎帝

5. 传说黄帝的妻子嫫祖擅长纺织，并会缫丝。1958 年在距今 4000 多年的浙江吴兴钱山漾遗址中发现了家蚕丝线、丝带和绢片等历史遗存。这说明（ ）

- A. 传说和神话传递了一定的历史信息
B. 传说和神话是完全杜撰的
C. 黄帝是最为著名的传说人物
D. 尧舜禹时代临近跨入国家时代的门槛

6. 右图中的文物收藏于中国国家博物馆，是国家一级文物，也是世界迄今出土最大最重的青铜器，享有“镇国之宝”美誉。它是（ ）



- A. 商朝司(后)母戊鼎
B. 商周时期三星堆青铜立人像
C. 商朝四羊方尊
D. 战国时期曾侯乙编钟

7. 西周时期的青铜器——利簋（见下图），样式称不上惊艳，却被称作是镇国青铜器。利簋珍贵恰是因为底部的 30 余字铭文，记述了周武王在牧野伐纣的过程。如果你要制作一个介绍利簋的微视频，最合适的标题是（ ）



- A. 一本打开的青铜之书
B. 刻下商周的界碑
C. 这里有中国
D. 执掌于手心间的千军万马

8. “这是中国古代的一种文字，被认为是现代汉字的雏形，也是汉字的书体之一，是中国已发现的古代文字中年代最早、体系较为完整的文字，因其最早发现在动物骨头上而得名。”这段解说词适用于（ ）

- A. 金文 B. 小篆 C. 甲骨文 D. 隶书

9. 考古发掘是我们了解历史的重要途径。1986 年，在陕西凤翔秦景公的墓葬中出土了铲、锛、环、削刀等铁器。1990 年，在河南三门峡虢国贵族墓葬中出土了一把玉茎铜芯柄铁剑。从这些文物中，我们可以得出的结论是（ ）

- A. 春秋时期周王室衰微
B. 春秋时期诸侯之间展开了争霸斗争
C. 春秋时期社会动荡
D. 春秋时期铁器已经开始使用

10. 小明在学习时搜集到如下信息:至迟在春秋末年已使用,战国时期进一步推广,是我国农业生产水平提高的重要标志。下列选项中,符合该信息的是()

- A. 青铜器的使用 B. 石器的使用 C. 牛耕的使用 D. 兴修都江堰

11. 按照西周时的规定,周天子可以享用九鼎,诸侯只可用七鼎。但春秋时,郑庄公却享用九鼎,一些诸侯国也随之效仿,这种情况反映春秋时期()

- A. 经济发展 B. 王室衰微 C. 诸侯争霸 D. 变法图强

12. 刚刚升入初中,同学们进行自我介绍,有位同学说:“我的姓氏是春秋时期出现的第一位霸主的封国。”由此可以推测他姓()

- A. 齐 B. 楚 C. 秦 D. 晋

13. 著名作家余秋雨先生在《文化苦旅》中写到:“就在秦始皇下令修长城的数十年前,四川平原上已经完成了一项了不起的工程……长城的社会功用早已废弛,而它至今还在为无数民众输送涓涓清流。”余秋雨笔下的“它”是()

- A. 灵渠 B. 郑国渠 C. 都江堰 D. 大运河

14. 春秋战国时期,各学派面对亟待解决的社会问题,纷纷著书立说,相互发表意见,并相互辩论,由此形成学术繁荣局面。此学术繁荣局面,历史上称为()

- A. 春秋争霸 B. 天下一统 C. 百家争鸣 D. 七雄争霸

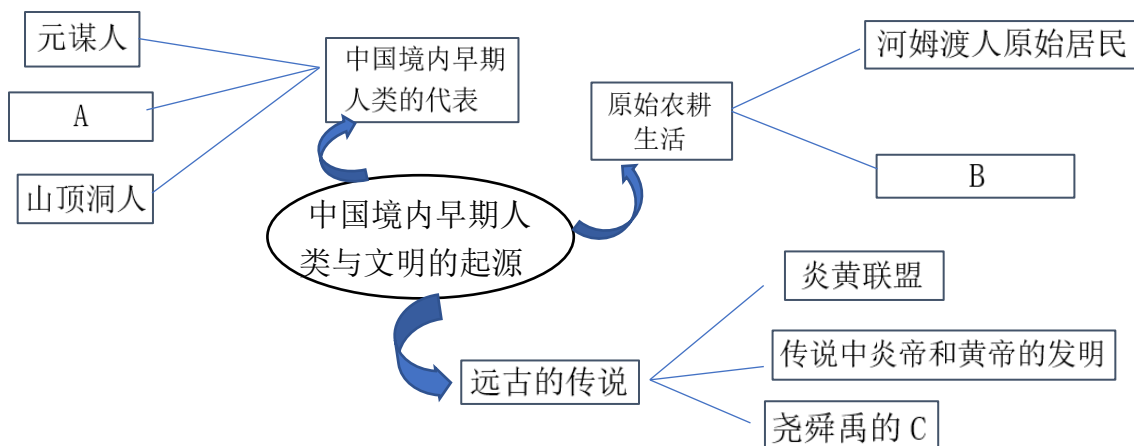
15. 在历史上与岳麓书院、东林书院、白鹿洞书院等齐名的问津书院(如下图),坐落于武汉市新洲区旧街孔子河畔。因孔子周游列国至楚国,使子路问津于此而得名。孔子是()

- A. 兵家的鼻祖
B. 道家学派的创始人
C. 儒家学派的创始人
D. 法家学派的创始人



二、非选择题(本大题共有 2 小题,总分 30 分)

16. 小明同学在学习完《中国历史》(七年级上册人民教育出版社)第一单元后,对第一单元进行了知识整理。请帮助小明完成空缺部分。(6 分)



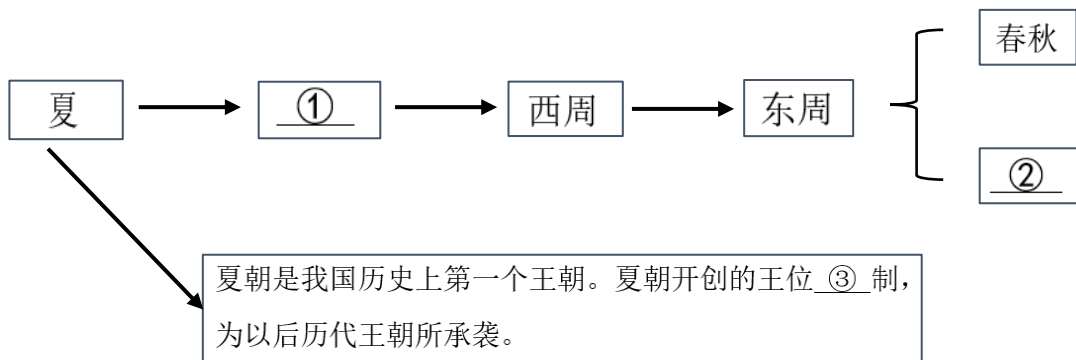
A: _____; B: _____; C: _____.

17. 阅读材料，回答问题，(24分)

中新社荆州(2011年)11月25日电(记者徐金波)

25日，中国国家文物局和湖北省政府在位于湖北荆州的楚国故都——纪南城开建国家考古遗址公园。……中共湖北荆州市委书记李新华说，荆州是楚国的故里，春秋战国时期，20代楚王定都纪南城长达411年，不仅在此成就了春秋五霸、战国七雄的霸业，而且创造了可与古希腊雅典文化相媲美的楚文化，孕育了最早的水稻种植技术、最古老的铁器制品、最精湛的青铜工艺，造就了闻名中外的老庄哲学、楚辞歌赋、美术乐舞，诞生了世界历史文化名人屈原、“问鼎中原”的楚庄王等著名历史人物。

(1) 中华文明历史悠久，朝代更替纷繁复杂。请你仔细阅读，依据提示填写空白处的内容。(6分)



① _____; ② _____; ③ _____.

(2) 楚国的起源与中国古代哪一朝代的哪一制度有关? (6分)

朝代: _____;

制度: _____.

(3) “20代楚王定都纪南城长达411年，……在此成就了春秋五霸……的霸业，……”请列举出春秋争霸时除楚庄王以外的任意两个霸主。(6分)

(4) “20年代楚王定都纪南城长达411年，……在此成就了……战国七雄的霸业，……”请写出战国后期“战国七雄”中实力最强大且对其他六国构成威胁的诸侯国，并从政治、经济方面说出促使其由弱变强的因素。(6分)

历史 参考答案

一、选择题（30分）

1—5 BACCA； 6—10 ABCDC； 11—15 BACCC

二、非选择题（30分）

16. (6分)

A:北京人；

B:半坡人原始居民；

C:禅让。

17. (24分)

(1) (6分)

①商；②战国；③世袭。

(2) (6分)

朝代：西周；

制度：分封制。

(3) (6分)

齐桓公；晋文公；秦穆公；吴王阖闾；越王勾践（答出任意两个即可）

(4) (6分)

秦国；

政治方面：通过商鞅变法，秦国在政治方面确立了县制，由国君直接派官吏治理；此外还废除了贵族的世袭特权。

经济方面：通过商鞅变法，秦国废除了井田制，允许土地自由买卖；同时还奖励耕织，统一度量衡。此外还修建了都江堰，使成都平原成为天府之国。