



武汉市梅苑学校 2020~2021 学年度上学期期中质量 检测

七年级道法试卷

全卷满分：60 分

命题人：龚剑红

审题人：陈彩虹

★祝考试顺利★

考生注意：

1. 本试卷共 4 页，满分 60 分，考试用时 50 分钟
2. 全部答案必须在答题卡上完成，答在其他位置无效，请认真核对每题答案是否在答题卡的对应框中
3. 答题前请认真阅读答题卡的“注意事项”，考试结束后，请将答题卡上交

一、单项选择题：（每题只有一个最符合题意的正确答案，每题 2 分，共 40 分。友情提醒：请将正确答案填入答题卡上）


1. 中学时代是人生最美好的年华。对此，下列说法正确的是（ ）
①中学生活把我们带进一个别样的天地
②中学时代是人生发展的一个新阶段
③中学时代见证着一个人从少年到青年的生命进阶
④进入中学，我们站在一个新的起点上
A. ①②③ B. ②③④ C. ①②④ D. ①②③④
2. 中学生活馈赠给我们的成长礼物有（ ）
①新的机会和可能 ②新的环境和条件 ③新的目标和挑战 ④新的友谊和待遇。
A. ①② B. ①②③ C. ①③ D. ①②③④
3. “学习虽苦，但我喜欢学习。比如在数学竞赛时，绞尽脑汁，冥思苦想，每做出一道题，那种成就感便难以言表，这就是学习的乐趣。”学生王丹的这段话表明
A. 学习十分辛苦，只有苦读才有出息 B. 学习没有艰苦，只有享受
C. 学习是苦乐交织的，有苦更有乐 D. 快乐学习是不现实的
4. 七年级学生小福希望提高自己的学习成绩，于是向他的同桌学习，早上很早起床读书，上课专心听讲，晚上挑灯夜读至深夜，可是学习成绩还是上不去。其主要原因是（ ）
A. 学习还不够努力 B. 没有睡好觉
C. 没有和同桌一起学习 D. 没有找到适合自己的学习方法
5. “学无止境”“活到老学到老”这些名言告诉我们（ ）
A. 学习方法很重要 B. 学习是一个十分痛苦的过程
C. 端正学习态度很重要 D. 学习没有终点，要做到终身学习
6. 习近平主席在 2019 年新年贺词中提到：“我们都在努力奔跑，我们都是追梦人。”作为奔跑在追梦路上的中学生，我们应该（ ）
①脚踏实地，创造有意义的人生
②理智对待学习压力，树立终身学习的理念
③正确认识自己，悦纳自己，完善自己
④青春飞扬，虚度时光
A. ①②③ B. ②③④ C. ①②④ D. ①③④



7. 漫画中小猫的行为 ()

- ①没有正确认识自己、悦纳自己
②是正确认识自己, 悦纳自己的表现
③没有客观地评价自己, 容易产生自卑
④是不恰当的自我评价, 对自己的健康成长是不利的

A. ①③ B. ①④ C. ②③ D. ③④



8. 一个人的美应是外在美与内在美的和谐统一, 古人说: “金无足赤, 人无完人。” 我们要全面认识自己 ()

- ①只要认识自己的外在形象而不管内在素质
②既要认识自己的外在形象, 又要认识自己的内在素质
③只要看到自己的优点, 不要在乎自己的缺点
④既要看到自己的优点, 又要看到自己的缺点

A. ①②③ B. ①③ C. ②④ D. ②③④

9. 15岁的小秦是某中学的女生, 长相平庸。前不久偶然听了男同学的议论之后, 她就去做了第一次双眼皮整容手术。两个星期后, 她又做了隆鼻手术。她还想在9月开学前做第三次整容手术……如果你是小雅的好朋友, 你会告诉她 ()

- ①接受现实, 学会欣赏自己 ②学会欣赏自己的独特, 欣赏自己的优点
③学会以积极心态接纳自己的形象 ④整容非常有必要, 能使自己变得更美丽

A. ①②③ B. ①②④ C. ①③④ D. ②③④

10. 四川一小学学生5年来坚持轮流“照顾”一残疾同学, 背他如厕帮他打饭, 背他上学, 作业遇到困难时, 帮他讲解……上述事实告诉我们 ()

- ①人与人需要关爱
②同学之间的友谊是人生的宝贵财富
③寻求他人帮助比自己努力更重要
④友谊能让我们感受到更多的温暖, 感悟到生命的美好

A. ①②③ B. ①③④ C. ①②④ D. ①②③④

11. 2019年7月的世界游泳锦标赛, 澳大利亚选手霍顿和英国选手斯科特分别在颁奖典礼上拒绝与金牌得主中国选手孙杨合影, 受到国际泳联发出警告。这启示我们 ()

- ①竞争必然伤害友谊
②对于竞争对手, 可以采取任何冒犯或不当行为
③坦然接受并欣赏竞争对手的成就, 才不会沉溺于失利的痛苦
④在竞争中做到自我反省和激励, 我们才会收获更多

A. ①② B. ③④ C. ①③④ D. ②③④

12. 孔子曰: “友直, 友谅, 友多闻, 益矣” 这句话告诫我们交友时要选择 ()

- A. 与自己志趣相投的人做朋友 B. 对自己有利可图的朋友
C. 正直、诚信、见多识广的人做朋友 D. 讲义气的人做朋友

13. 在新的环境中, 我们有机会改变自己在父母、老师和同学心目中那些不够完美的形象, 重新塑造一个我, 这个“我” ()

- ①越来越有活力, 能坚持, 有韧劲 ②越来越讲自我, 缺少包容
③越来越坚强, 会合作 ④越来越有主见, 唯我独尊

A. ①② B. ①③ C. ②③ D. ③④



14. 我和小豪是好朋友，放学后小川想去网吧打游戏，邀请我一起去，还说我的费用他包了，下列哪些做法是不正确的？（ ）
- ①去，不去白不去，有人掏钱，何乐而不为呢！
②初中生不应该去网吧，作为好朋友，我应该劝说小豪也不要去
③小豪真够意思，这才是真正的朋友
④自己不去，找借口拒绝，别人去不去管不着
- A. ①②④ B. ①②③ C. ①③④ D. ②③④
15. 友谊是最动听的乐章，友谊是最美妙的色彩，友谊是画龙点睛之笔。下列对友谊的特质的认识，不正确的是（ ）
- A. 友谊是互相利用的关系 B. 友谊是一种亲密的关系
C. 友谊不是一成不变的 D. 友谊是平等的、双向的
16. 虚拟世界的交往难以触摸到生活中的真实。不管互联网生活多么精彩，我们不可能只停留在虚拟世界中。你甚至不知道和你交流的对方是一条坐在电脑前会敲击键盘的狗。比尔·盖茨关于网络交往的这句话主要说明了（ ）
- A. 网络交往对象具有虚拟性、间接性和隐蔽性
B. 网络交往可以畅所欲言，无拘无束
C. 网络交往都是虚假的，毫无真实性可言
D. 网络交往可以实现人和动物的交流
17. 上网冲浪有利有弊，关键就在于要把握“度”。这个“度”是指（ ）
- A. 只要一有机会就上网 B. 始终明确网络只能用来学习
C. 控制上网时间，利用网络优势 D. 认清网络的危害，拒绝上网
18. 有人说，互联网开启了通往世界的又一个窗口，但有时却关闭了与他人沟通的心灵之门。对此，下列看法你认为正确的是（ ）
- A. 我们要充分满足自己的好奇心，尽可能多上网
B. 我们要分析网络带给我们的危害，拒绝上网
C. 我们要正确认识网上交往，用其所长，避其所短
D. 我们已是中学生了，有自我保护能力，网上交往不会造成很大危害
19. 当今世界，网络交往已成为人们生活中不可缺少的一部分，我们必须认识到网上交友的利与弊，做到慎重结交网友。下列情形中，属于慎重结交网友的有（ ）
- ①小王应网友邀请，瞒着家长和老师，在某网吧独自与网友见面
②小谭有很多网友，当他在生活中遇到困难时，首先选择向现实中信得过的朋友或师长寻求帮助
③小周在汽车客运站用手机上微信时接收到一个“附近的人”的好友申请，在不确定对方是谁的情况下，没有加其为好友
④小云在网上结识网友“卷卷毛”，经过一番交谈后，她毫无保留地把自己的真实信息告诉对方
- A. ①② B. ②③ C. ③④ D. ①④

20、玩微信成为一种生活新常态。微信借助互联网发送短信和语音，且不收费，因此成为了人们常用的通信方式，也被很多青少年视为“交友利器”。但一些不法分子利用微信造谣、实施网络交友、求职、购物诈骗等违法犯罪行为，微信也成了“危信”。为此，我们青少年在网络交往中应该（ ）

- ①远离微信，倡导健康文明的生活方式
- ②树立安全意识、自我保护意识
- ③要制定法律法规来约束违法犯罪行为
- ④要学会理性辨别，慎重选择

A. ①③ B. ②③ C. ③④ D. ②④

二、简答题（20 分）

21.（4 分）小德参加了班级的“我们的青春，我们的梦想”主题班会，并跟同学们分享了他的资料如下：

名人名言	名人事迹
<p>习近平总书记曾说少年要敢于有梦。从《西游记》到凡尔纳科幻小说，飞船、潜艇今天不都有了么？有梦想还要脚踏实地，好好读书，才能梦想成真。”</p>	<p>钱学森早年留学美国，他一直想着回国报效祖国，实现科技强国梦。5 年归国路，10 年两弹成。为梦想，他披荆斩棘奋力前行。面对困难，他鼓励身边的工作人员说：“常常是最后一把钥匙打开了神殿门，不要失去信心，只要坚持不懈就终会有成果的。</p>

概括“名人名言”和“名人事迹”共同体现的道理并谈谈对你的启示。（4 分）

22.（8 分）“下周班里要出一期以‘话说友谊’为主题的黑板报，老班把这个任务交给了我。我把黑板报设计了三个板块：感受友谊、建立友谊、呵护友谊。然后准备双休日搜集一些资料，一定不能辜负老班的信任。”

- (1) 潇潇可以通过哪些途径去搜集材料？（4 分）
- (2) 我们该如何呵护友谊，从而让友谊之树常青？（4 分）

23. 在学校组织的总结座谈会上，同学们都感觉收获很大，纷纷表示在以后的生活中要做到慎重结交网友，精心呵护现实生活中的友谊。怎样慎重结交网友?请提出至少三条建议。（8 分）



七年级道德与法治期中质量检测答案

一：1-10 DCCDD ABCAC 11-20 BCBCA ACCBD

二：21. (1) 编织人生梦想，是青少年时期的重要生命主题。有梦想，就有希望。

(2) 少年有梦，不应止于心动，更在于行动。不懈地追梦、圆梦才能改变生活，改变我们自己。

22.

(1) 读书，看报，网上查资料。

(2) (1) 需要用心去关怀对方。(2) 需要学会尊重对方。(3) 需要学会正确处理冲突。(4) 需要学会正确对待交友中受到的伤害。

23. (1) 网上交往，需要考虑对自己学习和生活的影响，学会理性辨别、慎重选择；

(2) 我们要有一定的自我保护意识；

(3) 将网上的朋友转化为现实中的朋友，需要慎重。

(4) 我们要学会在现实中与同伴交往，增加真实而贴近的感受，为友谊奠定可靠的基础。

(答出一个得3分，答出2个得6分，答出三个得满分。开放性，有道理即可得分)



武汉市梅苑学校 2020~2021 学年度上学期期中质量检测 七年级历史试卷

全卷满分：60 分

命题人：朱逸超

审题人：刘望成

★祝考试顺利★

考生注意：

1. 本试卷共 4 页，满分 60 分，考试用时 50 分钟
2. 全部答案必须在答题卡上完成，答在其他位置无效，请认真核对每题答案是否在答题卡的对应框中
3. 答题前请认真阅读答题卡的“注意事项”，考试结束后，请将答题卡上交

一、选择题（每题 2 分，共 30 分）

1. 历史教师在介绍我国境内某一早期人类时说：“他们生活在距今约 70 万-20 万年，采用不同的打制方法制作不同类型的石器工具。他们已经学会使用火，还会长时间保存火种，结成群体生活在一起”。下列早期人类符合此特征的是（ ）。

A. 元谋人 B. 北京人 C. 山顶洞人 D. 河姆渡人
2. 考古发现是研究历史的重要证据。陕西西安半坡遗址出土的以下石器说明半坡原始居民（ ）。

A. 已从事农业生产 B. 以捕鱼狩猎为生

C. 住半地穴式房屋 D. 会人工种植水稻



石铲（翻土）



石刀（收割）



石磨盘（谷物加工）

3. 2020 年 9 月 19 日，武汉市庆祝“中国农民丰收节”开幕式在江夏区举行。中国的农业生产具有悠久的历史，下列对原始农业的发展描述正确的一项是（ ）。

A. 我国长江中下游的先民最早开始栽培黍和粟

B. 大约 20000 年前，我国出现了最早的人工栽培农作物

C. 农作物种植、家畜饲养的出现以及聚落、磨制石器的发展，是原始农业兴起和发展的重要标志

D. 原始农业由用耒耜等翻土工具进行耕种发展到刀耕火种
4. 2019 年 9 月 11 日，讲述中国根脉故事的大型原创动画连续剧《黄帝史诗》在北京国家会议中心上演。剧中提到的黄帝被尊称为（ ）。

A. 治水英雄 B. 人文初祖 C. 炎黄子孙 D. 农耕之宗

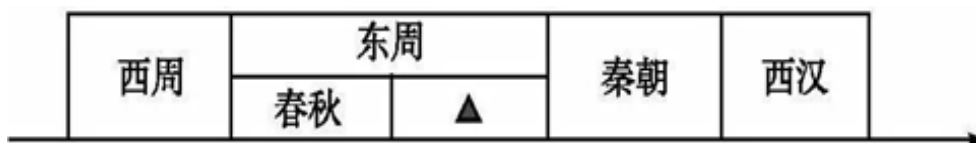
七年级历史试卷 第6页 共 4 页

只为学习而来！

www.52haoxue.com



5. 传说黄帝的妻子嫫祖会缫丝，擅长纺织。1958年，在距今4000多年的浙江吴山钱山漾遗址中发现了家蚕丝线、丝带和绢片。这说明（ ）。
- A. 传说和神话传递了一定的历史信息 B. 传说和神话是完全虚构的
C. 尧舜禹时代临近跨入国家时代的门槛 D. 黄帝是最为著名的传说人物
6. 比较法是学习历史的重要方法。七（3）班某位同学通过对夏王桀、商纣王、周幽王这三个历史人物进行比较，得出他们的共同点是（ ）。
- A. 都建立了一个新的王朝
B. 在位期间都实行残暴统治
C. 统治期间都能够发展生产，改革内政
D. 都推行过分封制以巩固疆域
7. 有学者这样形容西周时期的某项制度：周王把土地和人民分给诸侯，叫做“建国”，诸侯再把土地和人民分给卿大夫，叫做“立家”。这样就形成了金字塔形的封建体制。材料中提到的这项制度是（ ）。
- A. 禅让制 B. 世袭制 C. 分封制 D. 郡县制
8. 2019年11月1日，纪念甲骨文发现120周年座谈会在北京举行。习近平总书记在致大会的贺信中指出，甲骨文是汉字的源头和中华优秀传统文化的根脉，值得倍加珍视、更好传承发展。下列说法能够证明这一观点的是（ ）。
- A. 甲骨文是中国已发现的古代文字中年代最早、体系较为完整的文字
B. 甲骨文是中国商周时期刻写在龟甲和牛、羊等兽骨上的文字
C. 甲骨文使用象形、指事、会意、形声、假借等多种造字方法
D. 至今出土的商代和西周甲骨已超过16万片
9. 按照西周时的规定，周天子可以享用九鼎，诸侯只可用七鼎。但春秋时，郑庄公却享用九鼎，以后一些诸侯国随之效仿。这种情况反映春秋时期（ ）。
- A. 经济发展 B. 王室衰微 C. 诸侯争霸 D. 变法图强
10. 战国后期，秦国建造了一批以都江堰为代表的大型水利工程，一些至今仍在发挥作用。这些工程能够在秦国完成，主要是因为（ ）。
- A. 井田制度逐渐完善 B. 铁制生产工具普及
C. 交通运输网络通畅 D. 国家组织能力强大
11. 下图是小明同学绘制的中国历史朝代（时期）更替示意图（局部）。其中▲处应该是（ ）。



- A. 夏朝 B. 商朝 C. 战国 D. 东汉




12. 战国时期，各家学派的代表人物聚众讲学，研讨学术，著书立说。学派之间展开激烈的辩论，相互抨击；同时又相互影响，取长补短。这一思想文化的繁荣局面，历史上称为（ ）。
- A. 春秋争霸 B. 七雄并立 C. 百家争鸣 D. 天下一统
13. “一法度衡石丈尺，车同轨，书同文字。”首先采取这些措施的是（ ）。
- A. 秦朝 B. 汉朝 C. 夏朝 D. 周朝
14. 有学者认为，中国历史上秦始皇占据了一个划时代的位置。十年之内，吞并六国，统一了当时中国文化涵盖的地区。以下选项中属于秦始皇治下取得的历史功绩的是（ ）。
- A. 焚书坑儒，禁锢人们的思想言论 B. 形成中国古代思想文化发展的高峰
- C. 修建都江堰，使成都平原成为沃野 D. 创立大一统的中央集权制度
15. 秦始皇设想秦朝的江山传至二世、三世以至千万世，结果只传到秦二世就灭亡了，秦朝成为我国历史上的一个短命的封建王朝。秦朝灭亡的根本原因是（ ）。
- A. 大泽乡起义 B. 巨鹿之战 C. 楚汉之争 D. 秦的暴政

二、非选择题（共 30 分）

16. 阅读材料，回答问题。

材料一 大道之行也，天下为公，选贤与能……是谓大同。今大道既隐，天下为家，……是为小康。
——《礼记·礼运》

材料二



——统编版《中国历史》七年级上册

材料三 平王之时，周室衰微，诸侯强并弱，齐、楚、秦、晋始大，政由方伯（霸主）。
——《史记·周本纪》

- (1) 材料一中的“公天下”和“家天下”分别指的是什么制度？“家天下”开始于哪个朝代？这个朝代的建立者是谁？（4分）。
- (2) 材料二反映了西周实行的什么制度？这一制度起到了什么作用？（6分）。

(3) 材料三中提到的春秋时期“诸侯强并弱”所产生的影响是什么？(6分)。

17. 根据图片提示，将表格中空缺的内容填写完整。(6分)。



图片	学派	代表人物
图 1	法家	
图 2		孔子
图 3		
图 4		

18. 阅读材料，回答问题。

材料一 秦王扫六合，虎视何雄哉！挥剑决浮云，诸侯尽西来！

——李白

材料二 二世元年七月，发闾左谪戍渔阳，九百人屯大泽乡。陈胜、吴广皆次当行，为屯长。会天大雨，道不通，度已失期。失期，法皆斩。

——《史记·陈涉世家》

(1) 材料一中李白所述的历史事件是什么？它有怎样的历史意义？(4分)。

(2) 材料二所述是哪一事件的直接原因？此事件的地位如何？(4分)。



武汉市梅苑学校 2020-2021 学年度上学期期中测试

七年级历史试卷答案及评分标准

一、选择题（每题 2 分，共 30 分）

1	2	3	4	5	6	7	8	9	10
B	A	C	B	A	B	C	A	B	D
11	12	13	14	15					
C	C	A	D	D					

二、非选择题（共 30 分）

16. (1) “公天下”是指禅让制（1分）；“家天下”是指世袭制（1分）；“家天下”开始于夏朝（1分）；夏朝的建立者是禹（1分）。

(2) 反映了西周实行的分封制（2分）；这一制度的作用是保证周王朝对地方的控制，同时稳定政局，扩大统治范围。（答到其中两点得4分。学生作答如没有史实错误，意思接近可酌情给分）

(3) “诸侯强并弱”的影响是：给人们带来了沉重的灾难和痛苦；在争霸过程中，有些诸侯国被灭掉，一些强大的诸侯国的疆域不断扩展；出现了大规模的民族交融。（每点2分，共6分）

17.（每空1分，共6分）

图片	学派	代表人物
图 1	法家	韩非
图 2	儒家	孔子
图 3	墨家	墨子
图 4	道家	老子

18. (1) 材料一所述的历史事件是秦灭六国，统一全国。（2分，答秦统一中国、秦统一六国等均可）。秦的统一，结束了春秋战国以来长期征战混乱的局面，建立起我国历史上第一个统一的多民族的封建国家。（2分。学生答案意思接近可酌情给分）

(2) 陈胜、吴广起义（答大泽乡起义也可，2分）。这是中国历史上第一次农民大起义。（2分）